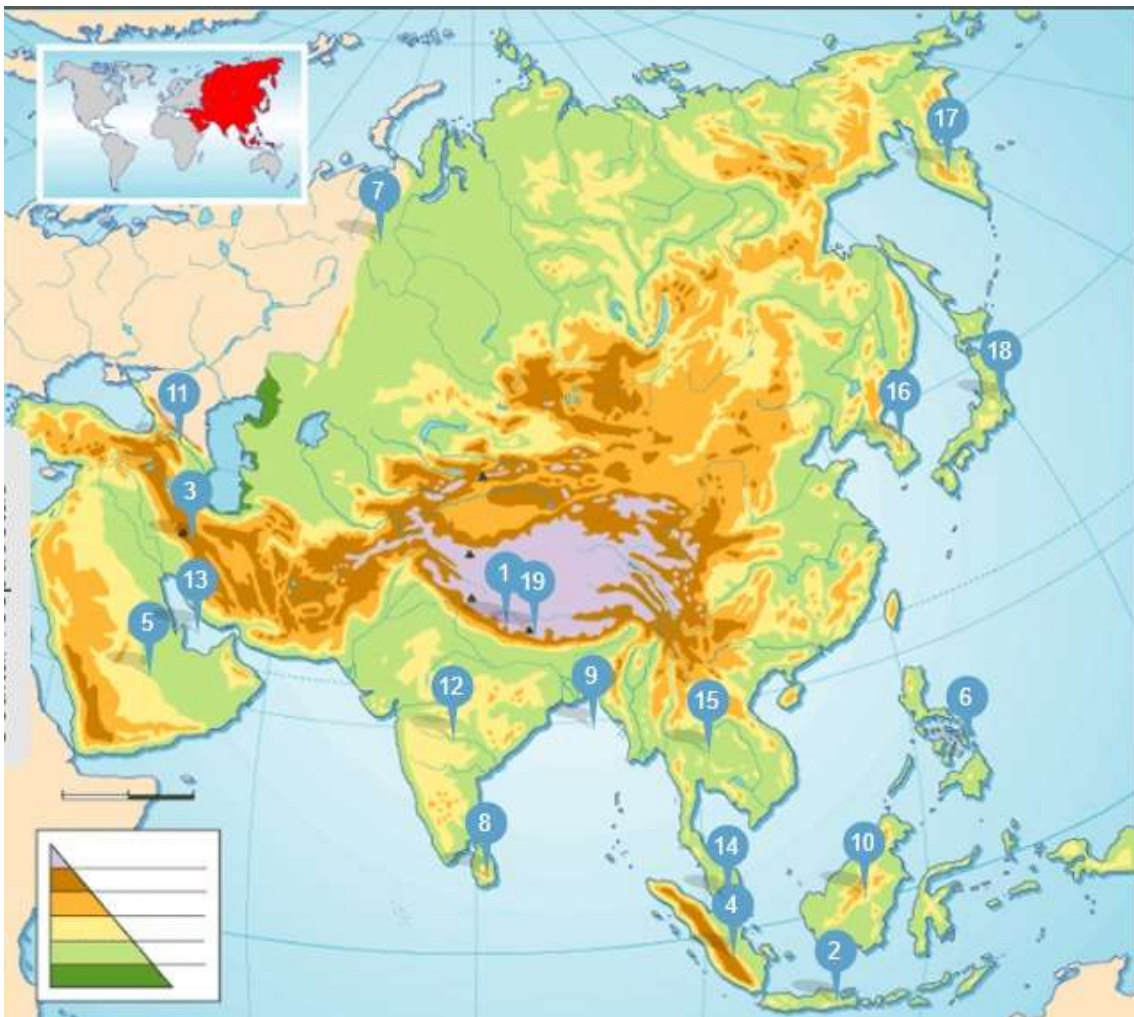


## MAPAS ASIA Y OCEANÍA

1. Localiza los siguientes accidentes geográficos en el mapa físico de Asia:

*Islas Filipinas, Archipiélago de Japón, Cáucaso, Sumatra, Corea, Península de Arabia, Ceilán, Borneo, Península del Indostán, Everest, Península de Malaca, Himalaya, Montes Urales, Indochina, Golfo de Bengala, Java, Península de Kamchatka, Montes Zagros, Golfo Pérsico*



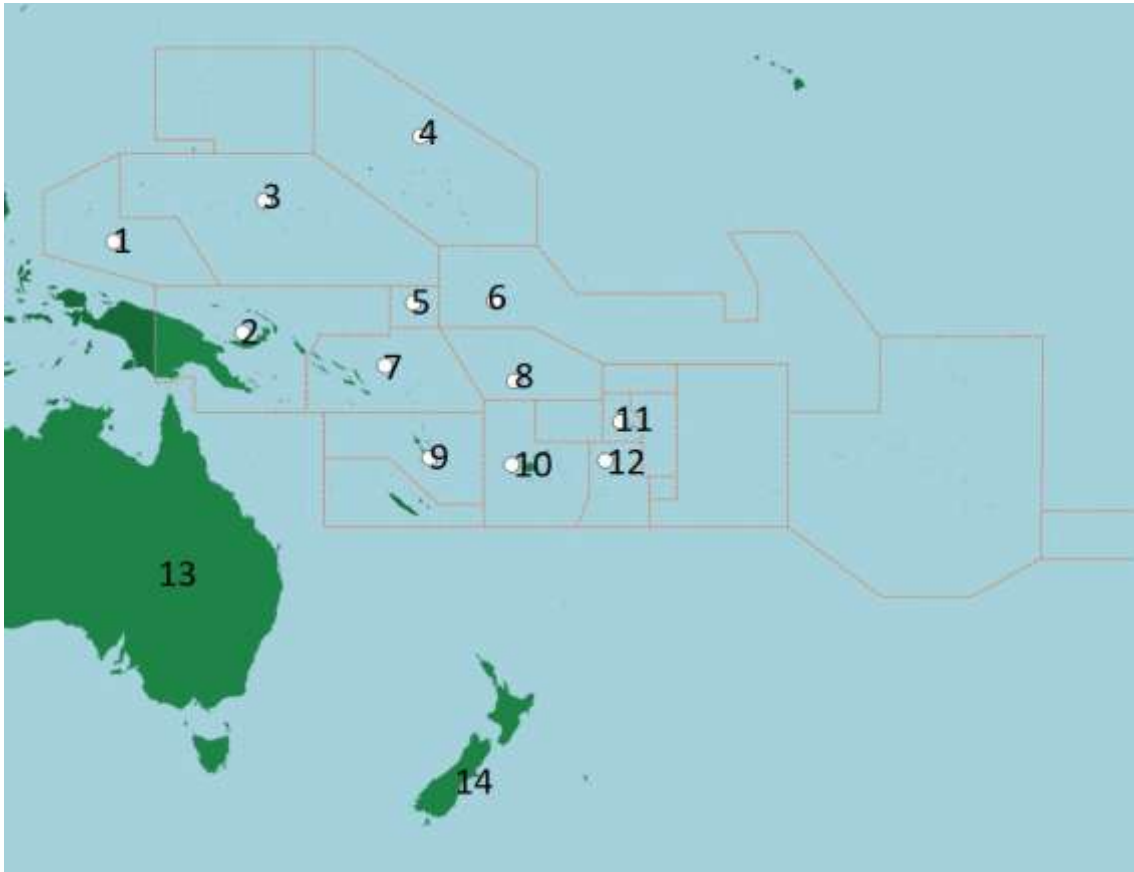
2. Localiza los siguientes países en el mapa político de Asia. Añade también sus capitales:

*India, Arabia Saudí, Mongolia, China, Indonesia, Japón, Corea del Norte, Turquía, Afganistán, Kazajistán, Pakistán, Irak, Rusia, Corea del Sur, Tailandia, Irán, Siria*



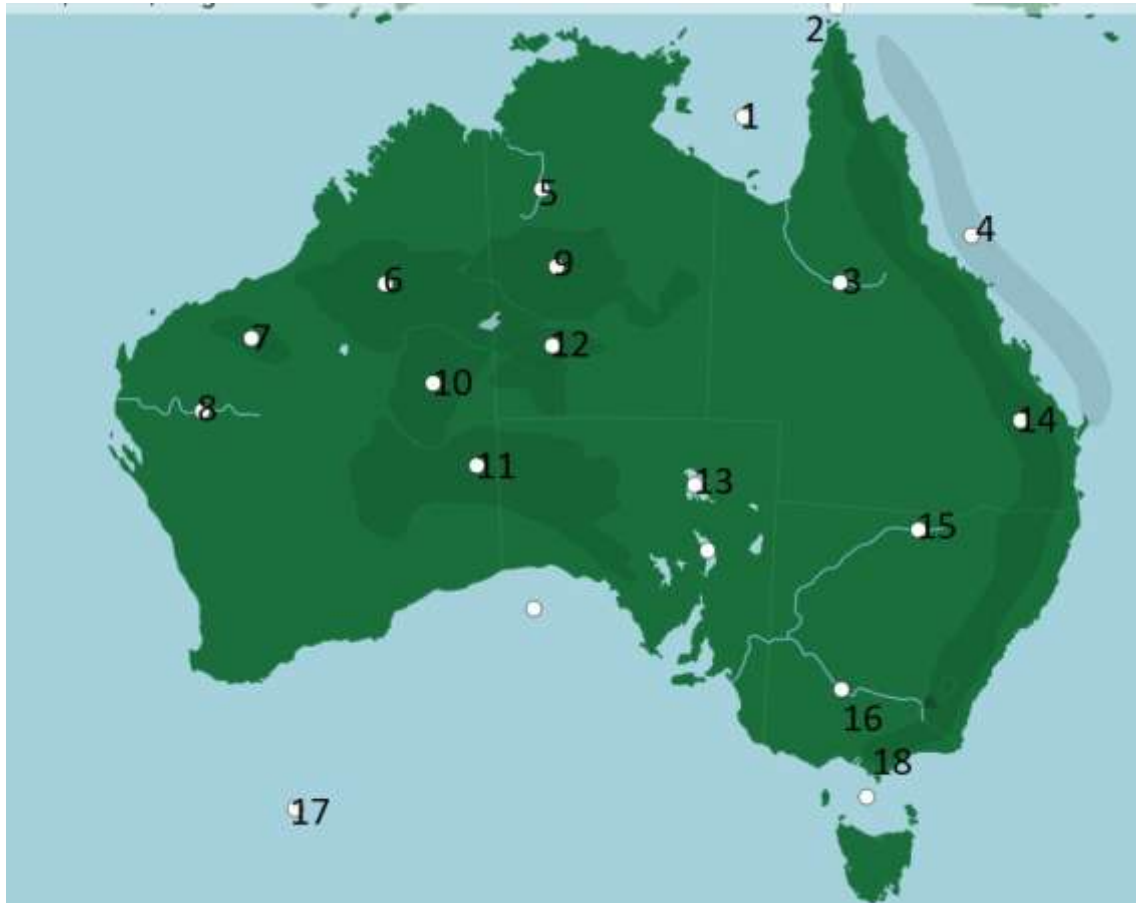
3. Localiza en el mapa político de Oceanía los siguientes países:

*Australia, Fiyi, Islas Marshall, Islas Salomón, Kiribati, Micronesia, Nauru, Nueva Zelanda, Palaos, Papúa Nueva Guinea, Samoa, Tonga, Tuvalu, Vanuatu*



4. Localiza los siguientes accidentes físicos en el mapa de Oceanía:

*Cordillera Hamersley, Cordillera McDonnell, Desierto de Gibson, Desierto de Tanami, Estrecho de Bass, Estrecho de Torres, Golfo de Carpentaria, Gran Bahía Australiana, Gran Barrera de Arrecife, Gran Cordillera Divisoria, Gran Desierto Arenoso, Gran Desierto de Victoria, Lago Eyre, Lago Torrens, Océano Índico, Río Darling, Río Flinders, Río Gascoyne, Río Murray, Río Victoria*



## Historia: la Edad Media

### ACTIVIDADES:

Investiga sobre la Reconquista y escribe un trabajo sobre esta época histórica.